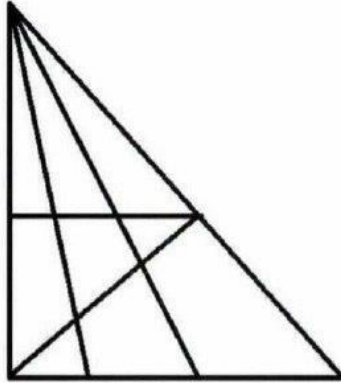


5-6. évfolyam

1. feladat

Összesen hány háromszög látható a képen?



2. feladat

Válaszolj a következő kérdésekre!

- a) Ha két indián két perc alatt két nyilat lő ki, akkor tíz indián tíz perc alatt hány nyilat lő ki?
- b) Ha kilencszer egymás után feldobsz egy pénzérmét és mind a kilencszer írás lesz akkor hány százalék az esélye, hogy tizedikre fej lesz?
- c) Egy kosárban öt alma van. Az almákat úgy kell elosztani öt ember között, hogy mindenki kapjon egy almát és a kosárban is maradjon egy. Hogyan csinálnád?

3. feladat

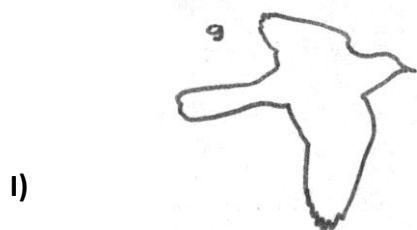


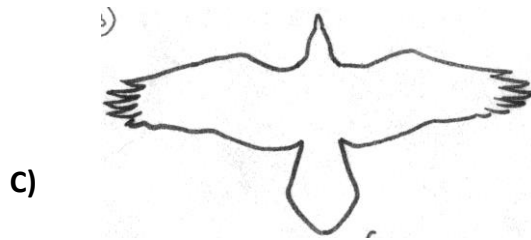
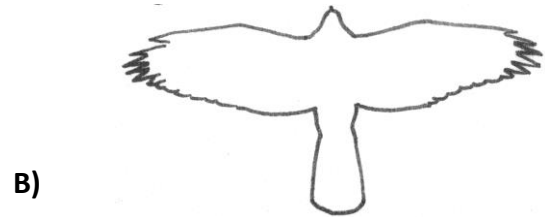
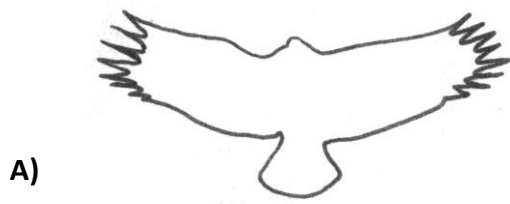
Írjátok be, hogyan nevezzük az alábbi állatfajok tagjait!

(Ha valahol nincs jellemző elnevezés, egy vonallal húzd ki, mert az is pontot ér!)

Állat	Kicsinye	Fiatálja	Hímje	Nősténye
szarvasmarha				
juh				
sertés				
ló				

4. feladat

Terepen járva leggyakrabban repülő madarakat láthattok. Mely madarakra ismertek röpképük alapján? Írjátok a röpképek alá a felismert madarak nevét!



Beadási határidő: 2019. április 17.